

令和 5 年度

# 高等学校入学試験問題

社 会

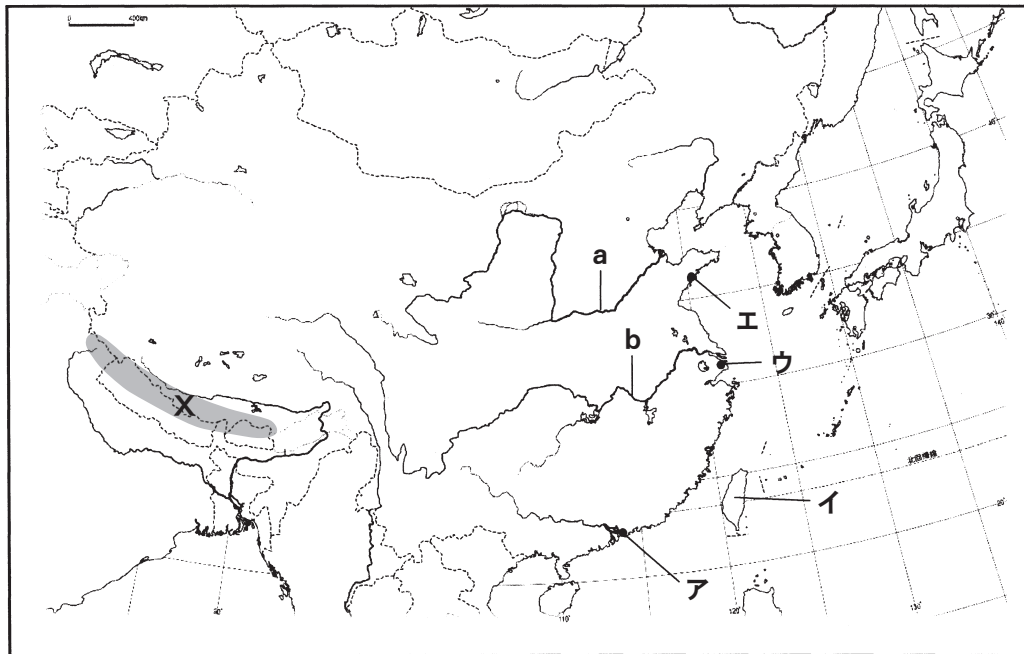
## 受験上の注意

◎ 時間……………45分

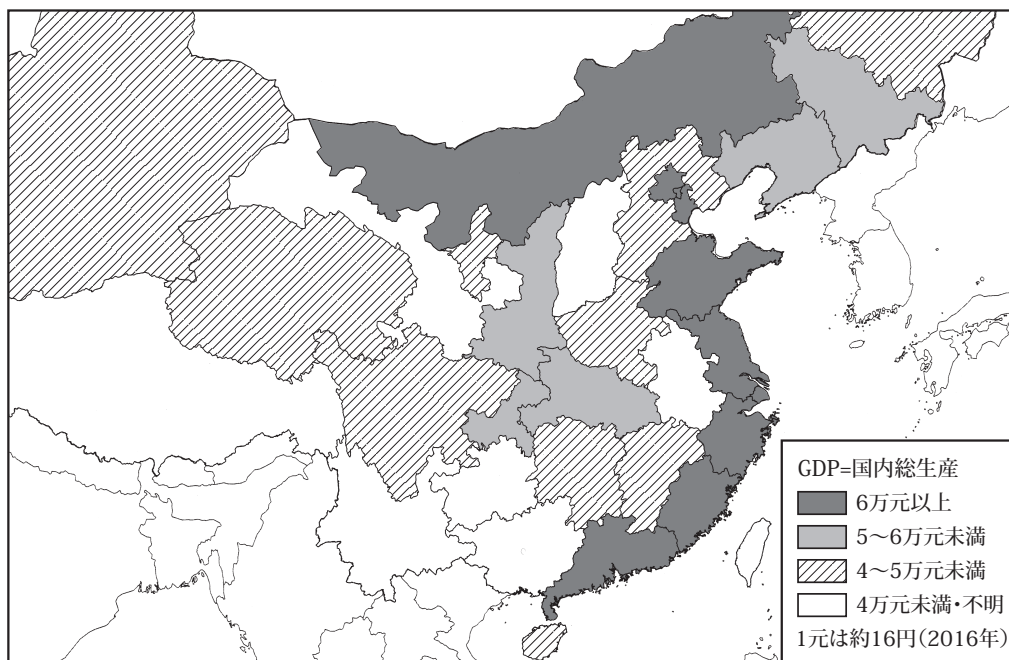
◎ 解答はすべて、別紙解答欄に記入すること。

第1問題 次の地図Ⅰ・Ⅱを見て、あとの問いに答えなさい。

地図Ⅰ



地図Ⅱ 中国の1人当たりのGDP



(『中国統計年鑑』2017年版ほかより作成)

問1 地図Ⅰの河川a・bに関する説明文として正しいものを下のア～エから1つ選び、記号で答えよ。

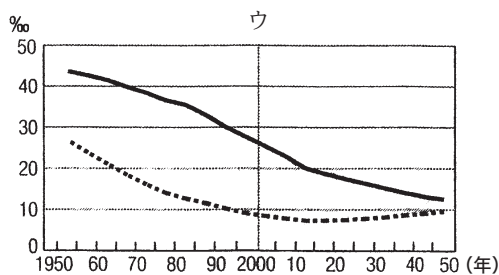
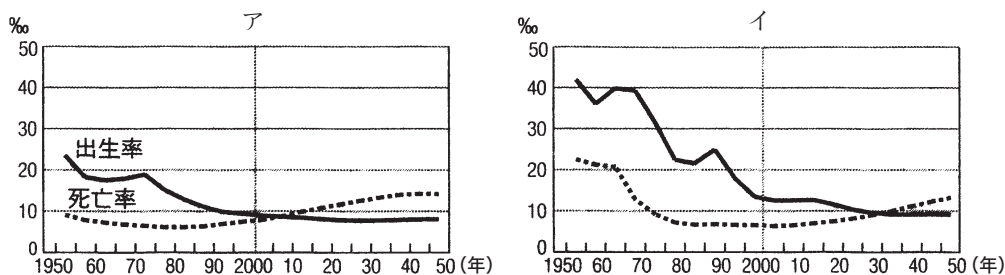
- ア. この河川の下流域は比較的気温が低く降水量も少ないので、小麦などの畑作がさかんである。
- イ. この河川の下流域は比較的気温は低いが降水量は多いため、稲作がさかんである。
- ウ. この河川の下流域は気温が高く降水量も多いため、稲作がさかんである。
- エ. この河川の下流域は気温は高いが降水量は少ないため、羊やらくだなどの放牧がおこなわれている。

問2 地図ⅠのXに位置する、中国やインド、ネパールなどにまたがる山脈の名前を答えよ。

問3 地図Ⅰのア～エはホンコン・チンタオ・シャンハイ・台湾のいずれかを示している。1997年にイギリスから返還された地域を選び、記号で答えよ。

問4 下のグラフⅠは、中国・日本・インドのいずれかの出生率と死亡率の推移をあらわしたものである。中国に該当するものを下のア～ウから1つ選び、記号で答えよ。

グラフⅠ 出生率と死亡率



(『2019データブック オブ・ザ・ワールド』より作成)

問5 下の表は中国・日本・アメリカ合衆国・インドのいずれかの自動車の生産台数をあらわしたものである。中国に該当するものを下のア～エから1つ選び、記号で答えよ。

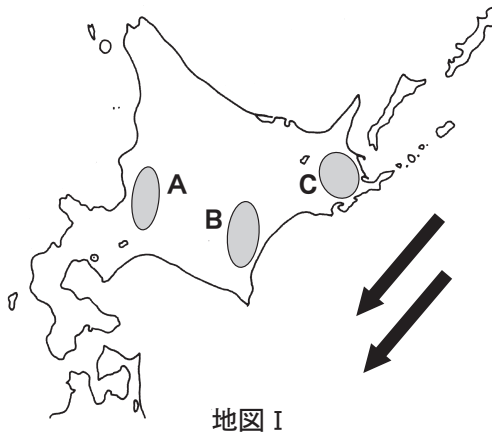
表 自動車の生産（千台）

	1990年	2018年
ア	13,487	9,730
イ	9,780	11,298
ウ	474	27,809
エ	364	5,143

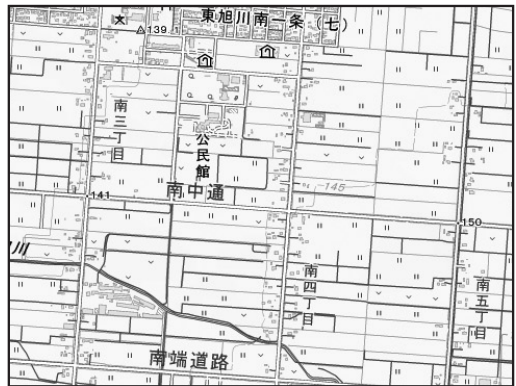
（『2022年版 地理統計Plus』より作成）

問6 地図Ⅱより、一人当たりのGDPが高い地域は、東部の沿岸地域に集中していることがわかる。なぜこの地域に集中しているのか、1970年代末から始まった中国の経済政策と絡めて理由を答えよ。

第2問題 下の地図Ⅰ・Ⅱを見て、あとの問いに答えなさい。



地図Ⅰ



地図Ⅱ

問1 北海道とだいたい同じ緯度にある国を下のア～エから1つ選び、記号で答えよ。

- ア. イギリス      イ. カナダ      ウ. イタリア      エ. モロッコ

問2 下の説明文は、**地図Ⅰ**中A～Cの地域のいずれかを説明したものである。このうち、Aに該当するものを下のア～ウから1つ選び、記号で答えよ。またこの平野名を答えよ。

- ア. この地域は、痩せた火山灰地であり濃霧が頻発するため、農業開発の遅れた地域であった。近年は、酪農を中心に生乳の生産は日本一である。
- イ. この地域は、緩やかに傾斜した台地状の地形となっており、畑作がさかんである。麦類やばれいしょのほか、てんさいなどの生産が多い。
- ウ. この地域はこの地を流れる大きな河川により形成された平野で、低湿地帯であるため稲作がさかんな地域である。また開発時期も早かったため、都市化の進んだ地域でもある。

問3 **地図Ⅰ**中の矢印はこの付近を流れる寒流を示している。この寒流について、下の文中の（      ）に適語を入れよ。

この寒流は（ 1 ）海流（親潮）と呼ばれ、この海流により冷やされた風が初夏の北海道や東北地方の太平洋側に吹き、濃霧や年によっては稲作などに大きな被害をもたらすことがある。この風を（ 2 ）という。

問4 **地図Ⅱ**は旭川市の地形図である。この格子状の街並みの説明文について、下の文中の（      ）に適語を入れよ。

明治時代に北海道の開拓と北方警備のために設けられた（      ）村が起源となっており、アメリカのタウンシップ制を参考に地割を行ったとされる。

問5 下の表は、北海道・長野県・鹿児島県・茨城県の各農産物の収穫量を示している。このうち、北海道に該当するものを下のア～エから1つ選び、記号で答えよ。

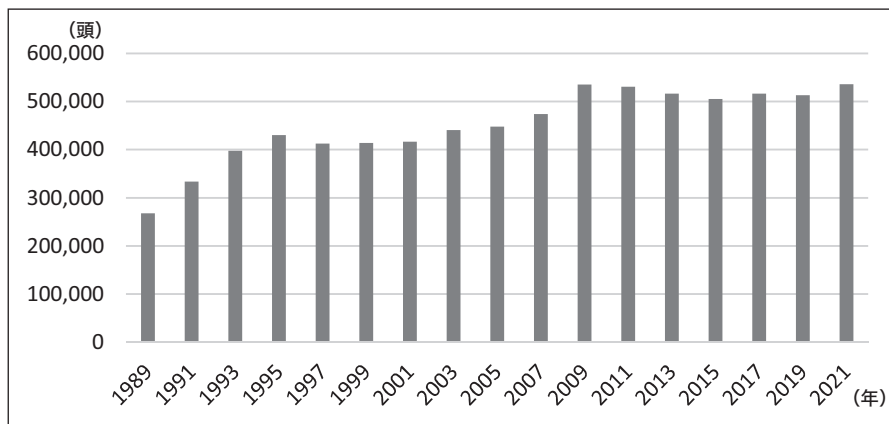
表 4道県の農産物収穫量

(2020年 単位:t)

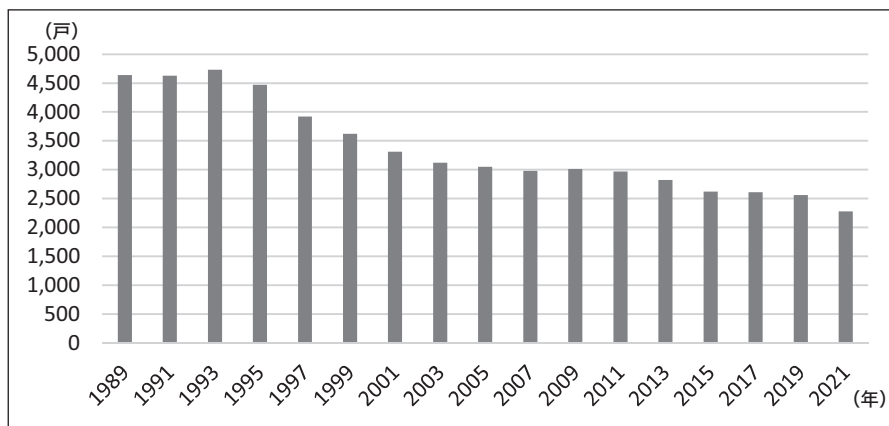
	ばれいしょ	にんじん	トマト	ピーマン	りんご	ぶどう
ア	1,732,000	183,200	66,200	5,280	8,270	6,940
イ	85,400	19,600	5,050	11,800	—	669
ウ	42,100	25,300	41,700	32,500	1,250	1,760
エ	16,400	—	13,300	1,950	135,400	32,300

(『データでみる県勢2022』より作成)

問6 グラフⅠは北海道における肉用牛の飼養頭数を、グラフⅡは北海道における肉用牛の飼養農家の戸数を示している。北海道における肉用牛飼養農家の経営規模はどのように変化していると考えられるか、その理由をあげながら説明せよ。



グラフⅠ 肉用牛の飼養頭数



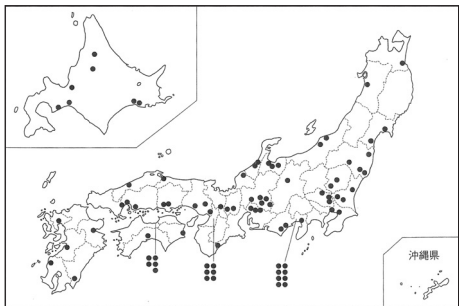
グラフⅡ 肉用牛の飼養農家の戸数

(『全国肉用牛振興基金協会 統計資料』より作成)

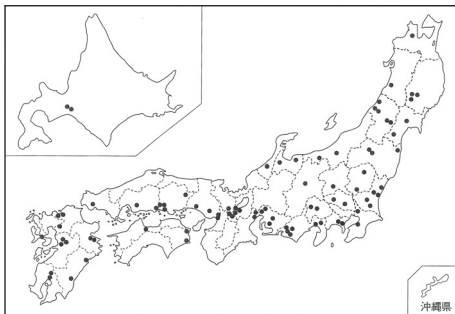
問7 下の4つの地図は、セメント工場、半導体工場、自動車組立工場、製紙工場の各工業の工場分布を示している。北海道に立地が多い地図Aの工業種を下のア～エから1つ選び、記号で答えよ。

- ア. セメント工場      イ. 半導体工場      ウ. 自動車組立工場  
 エ. 製紙工場

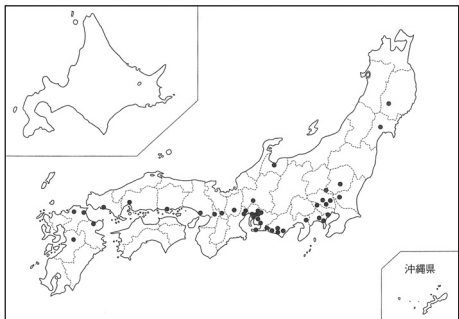
地図A



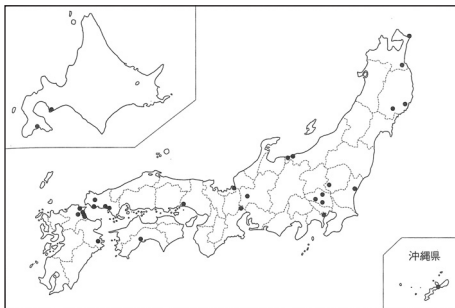
地図B



地図C



地図D



(『データでみる県勢2022』より作成)

第3問題 次の文章を読んで、あとの問いに答えなさい。

〈 A 〉

わたしは、河原者を積極的に重用し、①庭園づくりに従事させました。また、將軍の時に有力な武士たちが京都で②大きな争いを起こしてしまい、それは11年の間続きました。將軍として武士をまとめることができなかつたため、戦乱の後に政治の世界から身を引き、京都東山に別荘である慈照寺銀閣を建て、余生を過ごしました。

〈 B 〉

わたしは、四人の娘を天皇の後とし、生まれてきた孫たちを次々と天皇にして、大きな力を握り、息子とともに（ 1 ）政治の全盛期をつくりました。この栄華を「この世をばわが世とぞ思う望月の欠けたることも無しと思えば」という和歌であらわしました。晩年は病気で苦しみ、法成寺（京都）の阿弥陀堂で阿弥陀如来の手に通した5色の糸を握って、③極楽浄土に生まれ変わることを願い、生涯を終えました。

〈 C 〉

わたしは、平城天皇が病弱であったためすぐに天皇に即位しました。国司交代時に不正がないかどうかを調査させたり、天皇の機密文書を管理させたりする役職を設置しました。また、高野山（和歌山県）に金剛峯寺を開いた④空海を保護し、さらに京都の東寺をあたえ、真言宗布教の拠点とさせました。

〈 D 〉

わたしは、念仏弾圧の命令を下し、のちに（ 2 ）の開祖となる親鸞を越後へ配流させました。その後、朝廷に協力的であった源実朝が暗殺されると、源氏の血すじが途絶えたことを契機に、朝廷の権力回復をねらい、幕府に対して兵をあげましたが、⑤失敗に終わりました。

問1 空欄（ 1 ）・（ 2 ）にあてはまる語句を答えよ。

問2 下線部①について、長方形の庭に白砂を敷き、樹木や水を使用せずに、山川を表現した日本庭園の様式を答えよ。



問3 下線部②について、争いの名称を答えよ。また、この争いに関係する内容として、誤っているものを下のア～エから1つ選び、記号で答えよ。

- ア. 戦乱には、足軽という雇い兵が動員され、集団で奇襲などを行い、京都の多くの寺社や貴族の屋敷が焼かれた。
- イ. 下剋上の風潮がひろがり、家来が大名の地位を奪ったり、守護大名が幕府から独立したりするなど、各地で戦国大名が登場した。
- ウ. 山城国では、守護富樫氏が本願寺門徒に攻め倒され、一揆衆が約100年にわたり自治支配した。
- エ. 公家や下級武士のほか、商工業者や土倉衆などの町衆の願いのもと、祇園祭が復興した。

問4 下線部③について、浄土信仰と関係のあるものとして、誤っているものを下のア～エから1つ選び、記号で答えよ。

- ア. 疫病の流行や自然災害、戦乱などによる治安の悪化など、現世への不安があった。
- イ. 貴族は加持祈とうにたより、来世での幸福や社会の安定を願った。
- ウ. 釈迦が亡くなった後、仏教が衰退していくことで社会が混乱していくという末法思想が信じられるようになった。
- エ. 阿弥陀如来が菩薩たちを従えて迎えに来る来迎図がつけられた。

問5 下線部④について、ともに中国へ渡り、帰朝したのちに新しい仏教を伝えた僧侶の名前を答えよ。

問6 下線部⑤について、この事件後に起きた出来事として、誤っているものを下のア～エから1つ選び、記号で答えよ。また、その波線部を正しい語句に直せ。

- ア. Dの人物は敗戦後、島根県の壱岐に流された。
- イ. 朝廷を監視するため、京都に六波羅探題が設置された。
- ウ. 武士の慣習に基づいた法である御成敗式目が定められた。
- エ. 朝廷側の公家や武士の土地が没収され、御恩として御家人がその土地の地頭に任命された。

問7 < A >～< D >の人物を時代が古い順に並べ替えたとき、3番目にくるものを答えよ。また、その時代の仏教の特色を簡潔に説明せよ。

第4問題 次の崇さんと徳子さんの会話を読んで、あとの問いに答えなさい。

崇さん : 昨年の9月にイギリスのエリザベス女王が亡くられました。70年間イギリス国王として多くの仕事をこなしてきました。ところで、イギリスと日本の関係はいつから始まったのでしょうか。

徳子さん : 日本に初めてやってきたイギリス人は、1600年にオランダ船リーフデ号が漂流して豊後に到着した時に乗っていたウィリアム・アダムスだそうです。その後、彼は江戸に呼ばれて徳川家康のもとで働きました。

崇さん : 江戸時代の最初の頃は、イギリスとも交易関係があったのですね。

徳子さん : そうです。でも幕府の鎖国政策のため平戸の商館を閉めました。

崇さん : 幕末に、①長崎にイギリス船フェートン号が侵入する事件が起こりましたが、開国して日英和親条約を結ぶまで交流はありませんでした。そして②開国して貿易が始まると、イギリスが最大の貿易相手国となりました。

徳子さん : しかし、幕府が朝廷の許可を得ずに通商条約を結んだことから、幕府の政策を批判する( 1 )運動が盛んになりました。その中心は長州藩で外国船を攻撃した結果、イギリスを含む連合軍が下関を攻撃しました。

崇さん : また、薩摩藩も( 2 )事件に対する報復として、イギリスから鹿児島を攻撃されました。

徳子さん : その後、日本は明治維新を経て、欧米と国際的に対等な地位を得るために不平等条約の改正に乗り出しました。最初、イギリスは条約改正に消極的でしたが、1886年に( 3 )事件が起こり、世論に押されて、交渉に応じるようになりました。

徳子さん : そして、日清戦争直前に( 4 )外相が日英通商航海条約を結び、( 5 )の撤廃に成功しました。その後、同盟を結んだり、戦争では敵国同士になったりしますが、今年で日英交流は422年になります。

問1 空欄( 1 )～( 5 )にあてはまる語句を答えよ。

問2 下線部①について、フェートン号のような外国船に対応するため、幕府が1825年に出した法令名を答えよ。

問3 下線部②について、開港の経済的影響について述べた文として、誤っているものを下のア～エから1つ選び、記号で答えよ。

- ア. イギリスから安くて質の良い綿糸や綿織物が輸入されたため、国内の綿織物業が打撃を受けた。
- イ. 外国との金銀の交換比率の違いから、大量の金が流出したため小判の質が落とされ、物価が下がった。
- ウ. 最大の貿易港は横浜で生糸・茶などが輸出された。
- エ. 幕府は生糸などの流通を統制して貿易を管理しようとしたが、商人たちの反対により失敗した。

問4 イギリスについて述べた文として、誤っているものを下のア～エから1つ選び、記号で答えよ。

- ア. 国王が専制政治を行ったため2度の革命（ピューリタン革命・名誉革命）がおこった。
- イ. いち早く産業革命が行われ、綿織物業だけでなく、製鉄・機械・造船などの産業も急速に発達し、「世界の工場」と呼ばれるようになった。
- ウ. インドと清との三角貿易でアヘンを売ったため、清がきびしく取りしまり、その結果、アヘン戦争がおこった。
- エ. 人間としての自由、国民主権、私有財産の不可侵などを唱える人権宣言が出された。

第5問題 2022年9月、厚生労働省は、全国の100歳以上の高齢者が初めて9万人を超えたと発表した。次の会話文を読み、以下の問いに答えなさい。

Aさん：わたしには、100歳を迎える祖父がいます。この間、「老人の日」にあわせて、市長より祝状が贈られました。

Bさん：おめでとうございます。日本は平均寿命が長く、社会で活躍する①高齢者も少なくありません。「超高齢社会」といわれる日本には、老人福祉法という法律があり、高齢者がその希望と能力に応じて社会に参画できる機会を設けるよう定めています。その一方で、医療や介護を必要とする高齢者も増加しており、社会全体でどう支えていくのかは、大きな課題ですよ。

Aさん：そうですね。わたしの祖父も、医療・介護に必要な費用の問題に加えて、食事や入浴、排せつなど、家族の介助だけでは難しい状況になりました。そんな時、介護福祉士の方が、丁寧に対応してくださいました。本当に感謝です。

Bさん：そうでしたか。病気などで生活がままならない時に、国が生活を保障する「社会保障」の考え方があります。②社会保障について調べてみましょう。

Aさん：はい、本で調べてみます。社会保障は、日本国憲法が定める③生存権の考え方に基づき、④社会保険や社会福祉などの4つを基本的な柱としているとあります。このうち、社会保険のひとつに、介護サービスの費用を部分的に負担する「介護保険」がありました。

Bさん：このような支援など国に積極的な施策を求める社会権に対して、その人の価値観や意思を尊重することも大事ですね。⑤日本国憲法では、⑥自由権として保障されています。

Aさん：確かに、どのように生きたいと望んでいるか、その人の意志を尊重することも大事ですね。

Bさん：日本国憲法には直接的に規定されていませんが、自己決定権など「新しい人権」として主張されるようになりました。たとえば、延命治療の拒否などいわゆる「尊厳死」も自己決定権として議論されていますね。

問1 下線部①に関連して、以下の表1・2は、日本、アメリカ、ドイツ、スウェーデンに在住する60歳以上の男女（施設入所者は除く）を対象におこなった調査をまとめたものである。表1は「日々の暮らしに困ることの有無」、表2は50歳代までに、「老後の経済生活に備えて特にしていたこと」を調査したものである。表1・2より読みとれることとして、適切でないものを下のア～エから1つ選び、記号で答えよ。

表1 日々の暮らしに困ることの有無（単一回答）

	困っている	少し困っている	あまり困っていない	困っていない	無回答
日本	8.5	25.3	32.6	31	2.6
アメリカ	3.8	18.3	22.1	55	0.9
ドイツ	3.7	17.7	31.1	47.1	0.4
スウェーデン	2.4	11.2	41.2	43.4	1.9

表2 老後の経済生活に備えて特にしていたこと（複数回答可）

	預貯金	個人年金への加入	債権・株式の保有、投資信託	不動産取得	貴金属の保有	老後も働いて収入が得られるように職業能力を高める	その他	特に何もしていない	無回答
日本	54.6	24	13.5	4.3	0.8	12.7	3.2	27.1	2.9
アメリカ	62.7	45.7	52.2	23.1	9.3	27.1	7	12.4	—
ドイツ	59.3	21.4	17.4	29.8	4.6	11.9	3.7	22.3	0.9
スウェーデン	42.4	48.8	32.5	4.7	0.9	1.3	3.5	27.2	2

※上記の表1・2における数値の単位はすべて%とする。

※以上は、内閣府「高齢者の生活と意識に関する国際比較調査」（令和2年度）により作成した。

- ア. アメリカは、日々の暮らしに困ることの有無について、4か国のなかで「困っている」、「少し困っている」を合計した値が日本に次いで高く、老後の経済生活に対する備えについて「預貯金」、「債権・株式の保有、投資信託」の割合が4か国のなかで最も高い。
- イ. 日々の暮らしに困ることの有無について、「困っている」と回答した割合は、「困っていない」と回答した割合よりも、4か国すべてで低く、ドイツは老後の経済生活に対する備えについて、「個人年金への加入」の割合が4か国のなかで最も低い。
- ウ. 老後の経済生活に対する備えについて、「特に何もしていない」と回答した割合は、「老後も働いて収入が得られるように職業能力を高める」を4か国すべてで上回っており、日本は老後の経済生活に対する備えについて、「貴金属の保有」と回答した割合は4か国のなかで最も低い。
- エ. スウェーデンは、日々の暮らしに困ることの有無について、4か国のなかで「あまり困っていない」、「困っていない」を合計した値が最も高く、老後の経済生活に対する備えについて「個人年金への加入」の割合が最も高い。

問2 下線部②について、社会保障は、労働者の生活を保障する制度として始まり、第二次世界大戦後のイギリスで、全国民を対象とした社会保障制度が確立した。このイギリスの社会保障制度の「生まれてから死ぬまで続く保障を目指す」という意味のスローガンの（ ）にあてはまる語句をひらがな4字で答えよ。

イギリスの社会保障制度のスローガン  
「（ ）から墓場まで」

問3 下線部③について、日本国憲法では第25条に明示されている。条文内の（ ）にあてはまる語句を漢字2字で答えよ。

第25条  
① すべて国民は、健康で（ ）的な最低限度の生活を営む権利を有する。

問4 下線部④について、社会保障の4つの柱をまとめた下の表にあてはまる語句を漢字4字で答えよ。

社会保険	医療保険、年金保険、（ 1 ）、労災保険、介護保険により成り立つ。
（ 2 ）	生活保護法に基づいて、貧困で生活が困難な人に最低限の生活を保障するために、生活費、教育費、住宅費などを援助するもの。
社会福祉	児童、高齢者、身体障がい者、知的障がい者などの福祉向上のためのもので、手当の支給、施設やサービスの提供をおこなう。
公衆衛生	清掃、下水道などの環境整備、感染症などの予防衛生によって、国民の健康の維持・増進をはかることを目的としている。

問5 下線部⑤に関連して、次の表は「人権思想と憲法の歴史」をまとめたものである。カード①は、表の【A】～【E】のどの位置にあてはまるか答えよ。

年	人権の歴史
1215年	マグナ・カルタ（イギリス）
	【A】
1689年	権利章典（イギリス）
	【B】
1776年	アメリカ独立宣言（アメリカ）
	【C】
1789年	フランス人権宣言（フランス）
	【D】
1889年	大日本帝国憲法（日本）
	【E】

表「人権思想と憲法の歴史」

ワイマール憲法
この憲法は、社会権を早くに定めたドイツ共和国の憲法として知られる。

カード①

問6 下線部⑥に関連して、自由権のうち経済活動の自由に該当するものを下のア～キからすべて選び、記号で答えよ。

- ア. 手続きなしに逮捕されない自由
- イ. 自分の興味あることを学ぶ自由
- ウ. 住みたいところに住む自由
- エ. 自分の就きたい職業を選ぶ自由
- オ. 言いたいことを自由に発言する自由
- カ. 信じたい宗教を信仰する自由
- キ. 働いて収入を得る自由

第6問題 次の文章を読んで、あとの問いに答えなさい。

国および地方公共団体のおこなう経済活動のことを財政という。政府の予算は一般会計と特定の事業などをおこなうための（ 1 ）に分けられている。また、通常の予算とは別に第二の予算とよばれる（ 2 ）がある。歳入の中心となるのが租税である。租税は、所得税や法人税など納税者と担税者が同一の（ 3 ）と、①消費税や酒税など納税者と担税者が異なる間接税とに分けられる。租税だけで歳入をまかなうことができない場合は②国債を発行することがある。

財政政策には3つの機能がある。第一は、教育、警察、道路、公園など、民間の企業に委ねることのできない（ 4 ）を提供し、社会全体としての資源配分が適正になるようにする機能である。第二は、③所得の多い人ほど高率の税金を徴収する制度や、社会保障によって低所得の人を支えるなど、国民の所得格差を是正する所得の再分配の機能である。第三は、④財政政策によって景気の動きを調整する経済安定化の機能である。

問1 （ 1 ）～（ 4 ）にあてはまる語句を答えよ。

問2 下線部①について、消費税のように所得の多少にかかわらず一律に課税されるため、低所得者ほど負担が重くなる現象を何というか答えよ。

問3 下線部②について、誤っているものを下のア～エから1つ選び、記号で答えよ。

- ア. 国債の利子の支払いや元金の返済は将来の国民の税金でまかなう。
- イ. 建設国債は、公共事業のために発行される。
- ウ. 特例国債は、特例法を制定して発行される。
- エ. 赤字国債は、人件費や事務費などの経費をまかなうために発行される。

問4 下線部③について、この制度を何というか答えよ。

問5 下線部④について、不況時に景気を回復させるための財政政策として適切でないものを1つ選び、記号で答えよ。

- ア. 公開市場操作
- イ. 国債発行
- ウ. 道路建設
- エ. 減税



令和 5 年度 高等学校入学試験問題〔社会〕

解 答 欄

第 1 問題

問 1		問 2		問 3	問 4	問 5
a	b					
問 6						

第 2 問題

問 1	問 2		問 3			
	記号		1	2		
		平野				
問 4		問 5				
問 6						問 7

第 3 問題

問 1		問 2	
1	2		
問 3		問 4	問 5
名称		記号	
問 6			
記号	語句		
問 7			
記号			

第 4 問題

問 1				
1	2	3	4	
問 1		問 2	問 3	問 4
5				

第 5 問題

問 1	問 2			問 3	問 4						
					1			2			
問 5		問 6									

第 6 問題

問 1				
1	2	3	4	
問 2		問 3	問 4	問 5

受験 番号		名前		得点		※	高社
----------	--	----	--	----	--	---	----

※印欄は記入しないこと