

令和4年度

# 中学校前期入学試験問題

社 会

## 受験上の注意

◎時間……………40分

◎解答はすべて、別紙解答欄らんに記入すること。

第1問題 次の文章について、あとの問いに答えなさい。


日本の領土は、北海道・( A )・九州・四国の4つの大きな島と( B )の小さな島々からなっており、国土面積は約38万km<sup>2</sup>です。日本列島は弓のように連なっており、北海道から沖縄までの長さは約3000kmもあります。日本は周囲を海に囲まれた島国で、①広い範囲にたくさんの島々が位置しており、②領土に関する様々な問題をかかえています。また、③日本は複数のプレートが出会う世界でもめずらしい位置にあることに加え、内陸には断層も数多くあり、地震が発生しやすいところです。

問1 文章中の( A )に入る適語を答えなさい。

問2 文章中の( B )に入る数字を1つ選び、記号で答えなさい。

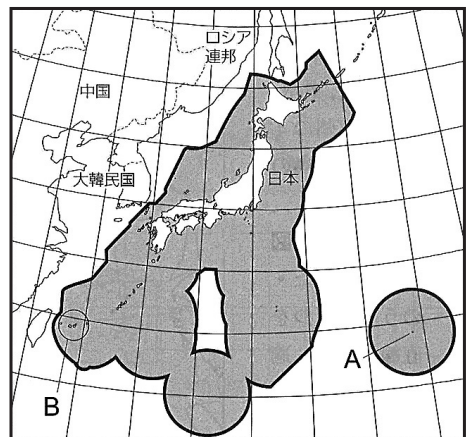
- ア. 約3000      イ. 約5000      ウ. 約7000      エ. 約9000

問3 下線部①について、右の地図中のA島の名称を答えなさい。

問4 地図中の日本の周りを囲んだ  があらわしている範囲を何というか答えなさい。

問5 下線部②について、地図中のBでは近年、中国と領有をめぐる緊張が続いています。これにあてはまるものを1つ選び、記号で答えなさい。

- ア. 竹島                      イ. 西之島  
ウ. 南沙諸島                エ. 尖閣諸島

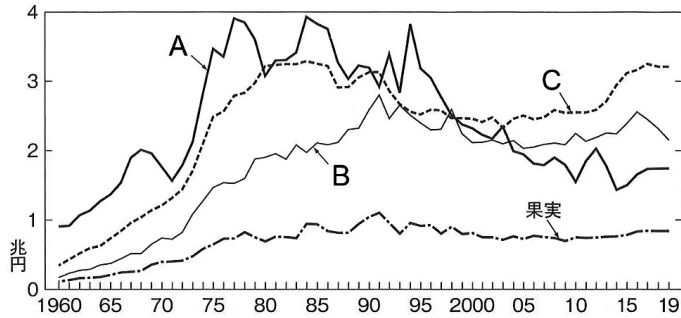


問6 下線部③について、2011年に発生した東日本大震災（東北地方太平洋沖地震）に直接関係があるプレートを1つ選び、記号で答えなさい。

- ア. フィリピン海プレート  
イ. ユーラシアプレート  
ウ. 北アメリカプレート  
エ. インド・オーストラリアプレート

第2問題 次の[1]～[5]のグラフを見て、あとの問いに答えなさい。

[1] 日本の主な農産物の生産額の変化（日本国勢図会2021）

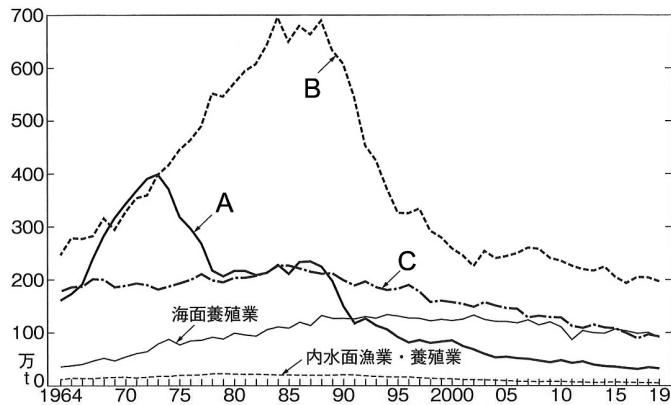


農林水産省「生産農業所得統計」により作成。1975年以前は沖縄県を含まず。

問1 [1]のグラフ中のA～Cにあてはまる組み合わせを1つ選び、記号で答えなさい。

- |         |      |      |
|---------|------|------|
| ア. A畜産物 | B野菜  | C米   |
| イ. A畜産物 | B米   | C野菜  |
| ウ. A米   | B畜産物 | C野菜  |
| エ. A米   | B野菜  | C畜産物 |

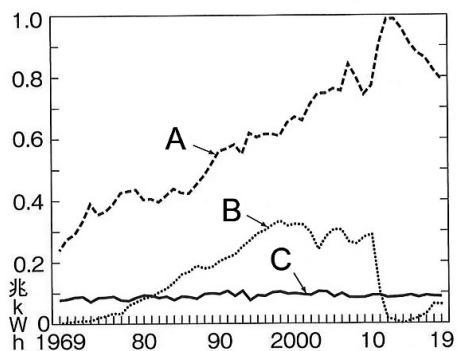
[2] 漁業別の生産量の変化（日本国勢図会2021）



問2 [2]のグラフ中のA～Cにあてはまる組み合わせを1つ選び、記号で答えなさい。

- |          |       |       |
|----------|-------|-------|
| ア. A遠洋漁業 | B沖合漁業 | C沿岸漁業 |
| イ. A遠洋漁業 | B沿岸漁業 | C沖合漁業 |
| ウ. A沖合漁業 | B遠洋漁業 | C沿岸漁業 |
| エ. A沖合漁業 | B沿岸漁業 | C遠洋漁業 |

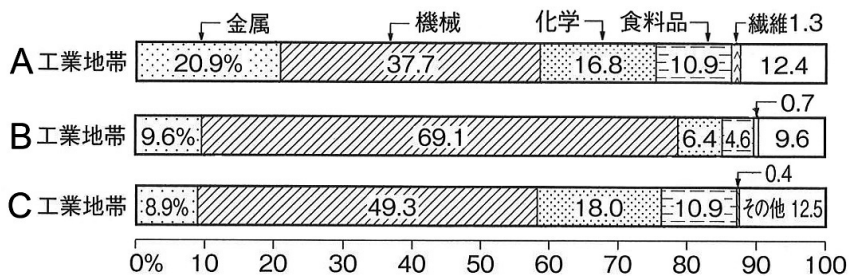
[ 3 ] 日本の発電電力量の推移（日本国勢図会2021）



問3 [ 3 ]のグラフ中のA～Cにあてはまる組み合わせを1つ選び、記号で答えなさい。

- ア. A火力            B水力            C原子力
- イ. A火力            B原子力        C水力
- ウ. A水力            B火力            C原子力
- エ. A水力            B原子力        C火力

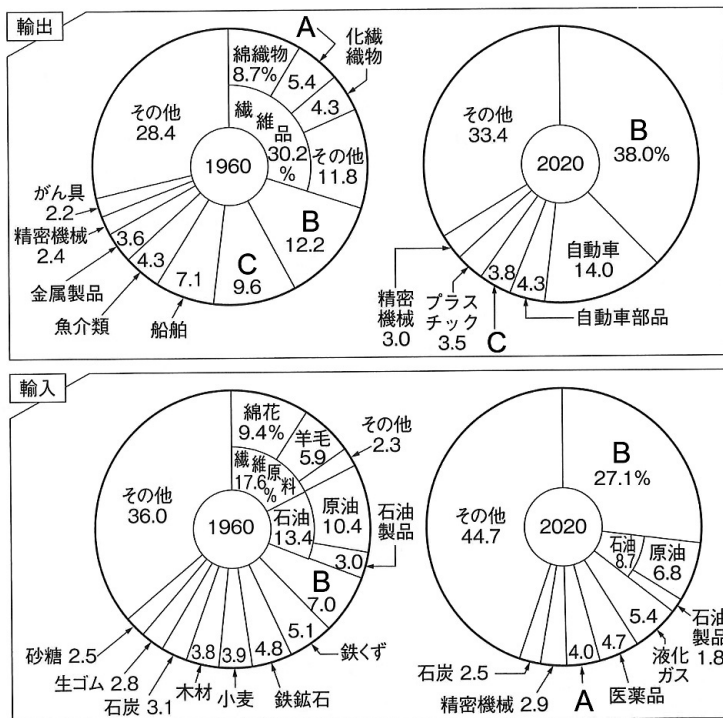
[ 4 ] 日本の工業地帯における製造品出荷額等の構成（日本国勢図会2021）



問4 [ 4 ]のグラフ中のA～Cにあてはまる組み合わせを1つ選び、記号で答えなさい。

- ア. A京浜            B中京            C阪神
- イ. A京浜            B阪神            C中京
- ウ. A阪神            B京浜            C中京
- エ. A阪神            B中京            C京浜

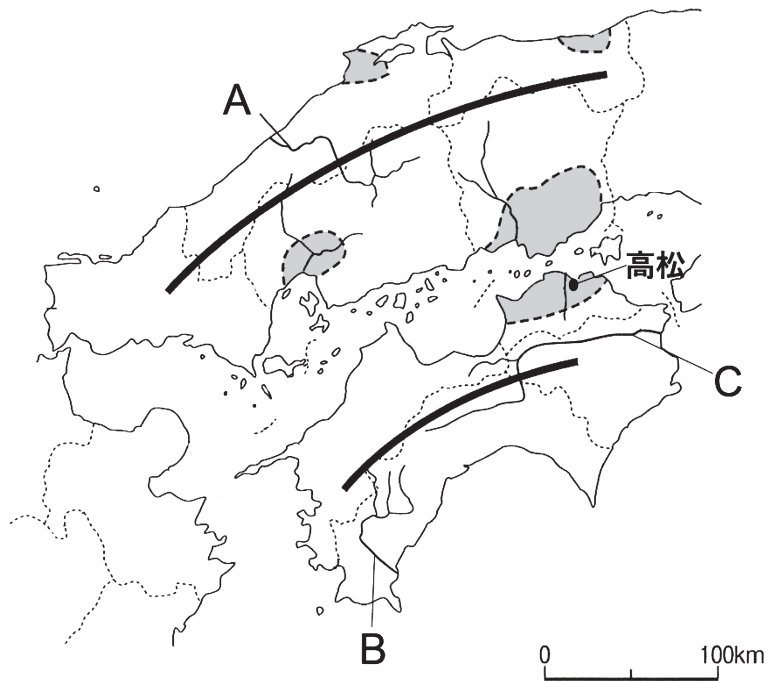
[5] 日本の主な輸出入品（日本国勢図会2021）



問5 [5]のグラフ中のA～Cにあてはまる組み合わせを1つ選び、記号で答えなさい。

- ア. A生糸            B機械類            C鉄鋼
- イ. A生糸            B鉄鋼              C機械類
- ウ. A衣類            B機械類            C鉄鋼
- エ. A衣類            B鉄鋼              C機械類

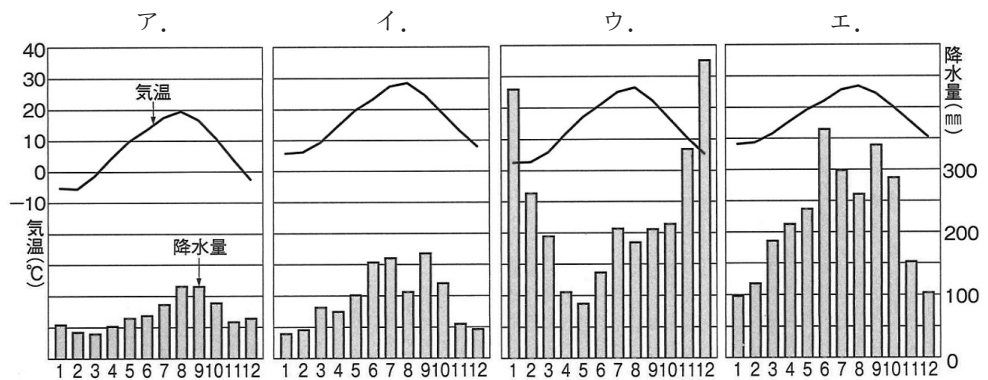
第3問題 中国・四国地方について、あとの問いに答えなさい。




問1 図中の **————** は山地をあらわしています。A～Cの河川名にあてはまる組み合わせを1つ選び、記号で答えなさい。

- ア. A 芦田川 B 球磨川 C 加古川      イ. A 三篠川 B 佐波川 C 淀川  
 ウ. A 太田川 B 高梁川 C 紀ノ川      エ. A 江の川 B 四万十川 C 吉野川

問2 図中の高松の雨温図にあてはまるものを1つ選び、記号で答えなさい。



問3 図中の  は平野をあらわしていますが、高松には江戸時代から「ため池」が多くつくられていました。しかし、近年は台風や豪雨によって防災上の問題がおきています。問題点を「土石流」という用語を使って30字～40字で説明しなさい。

第4問題 社会科の時間、Sさんは、「諸外国との新たな関係を築いた人物」という視点で、以下のA～Fの歴史人物カードをつくった。各カードの文章を読んで、あと  
の問いに答えなさい。（※カードは人物名を五十音順で並べている。）

**A 足利義満**

( 1 ) 幕府の3代将軍。  
中国(明)との貿易を行い、  
京都の北山に金閣を建てる。

**B 織田信長**

ヨーロッパから伝えられたキ  
リスト教を保護し、大量の  
( 2 ) を戦いに用いて勢  
力を拡大する。

**C 小村寿太郎**

外務大臣として、日本と欧米  
諸国との不平等条約の改正に  
成功し、( 3 ) が回復さ  
れる。

**D 聖徳太子**

小野妹子らを使者とする  
( 4 ) を中国に送り、仏  
教や進んだ制度を取り入れた  
国づくりを行う。

**E 徳川家光**

島原や天草のキリスト教信者  
らの一揆をおさえ、長崎での  
貿易を( 5 ) と中国に限  
り認める。

**F 北条時宗**

( 6 ) 幕府の執権。元の  
要求を退け、全国の武士たち  
を動員して2度にわたる元と  
の戦いで勝利する。

問1 カード内の( 1 )～( 6 )に入る適切な語句を答えなさい。

問2 カードA内の「金閣」に関連して、京都の東山には足利義政が建てた銀閣がある。  
銀閣の近くにある東求堂で用いられている建築様式を何というか答えなさい。



問3 カードBの織田信長の死後、天下統一の事業を引き継いだ豊臣秀吉は「検地」や「刀狩」を行った。2つの政策の目的を整理した下の文章中の（ X ）にあてはまる説明を答えなさい。

「検地」や「刀狩」を行うことによって、武士と百姓・町人などの（ X ）、武士が支配する社会のしくみを整えたと考えられている。

問4 カードCの不平等条約について、1858年に日本とアメリカとの間で結ばれた条約を何というか答えなさい。

問5 カードDの聖徳太子が行った政策を1つ選び、記号で答えなさい。

- ア. 仏教の力で社会の不安をはずめようと願い、国ごとに国分寺を建てることを命じた。
- イ. むすめを天皇のきさきにして天皇とのつながりを強くして、大きな力を持った。
- ウ. 国を治めるための法律（律令）をつくり、人々に租・庸・調といった税を納めさせた。
- エ. 家柄や出身地に関係なく能力や功績で役人を取り立て、役人の心がまえを示した。

問6 カードEの徳川家光は、武家諸法度を改め、全国の大名を取りしめるため、大名たちの妻子を人質として常に江戸のやしきに住ませ、1年おきに自分の領地と江戸の間を行き来させることとした。この制度を何というか答えなさい。

問7 カードFの戦いに幕府は勝利したにも関わらず、幕府に不満をもつ武士たちが多くなった。その理由を整理した下の文章中の（ Y ）にあてはまる説明を答えなさい。

幕府は、元との戦いで活躍した武士たちに（ Y ）ことができず、ご恩と奉公で結びついていた幕府と武士の関係がくずれ、武士たちは幕府に不満を持つようになったと考えられている。

問8 カードA～Fを、年代の古い順番に並び替えなさい。

第5問題 次の文章を読んで、あとの問いに答えなさい。

Aさん・Bさん・Cさんの3人は、学校でSDGsについて学習をしました。そこで、3人はそれぞれSDGsについて調べたことをグループで共有することにしました。下は、グループでの3人の会話です。会話文を読んで、各問に答えなさい。

Aさん：①SDGsって、2015年に国連本部で採択されたんだね。

Bさん：そうだね。日本もこの採択に賛成したね。

Cさん：SDGsは（ア）年までの世界の国々の行動目標だね。全部で17のゴールがあるよね。

Aさん：私はこの17のゴールのうちで、「1.貧困をなくそう」に興味があったので、このゴールについて調べてみたよ。

Bさん：「1.貧困をなくそう」について、世界ではどんな取り組みがされているの？

Aさん：②国際連合は、紛争地域などに食料や医療の支援をしているね。

日本政府も青年海外協力隊などを海外に派遣して様々な国際協力をしているよ。それに、アフガニスタンって国を支援していた中村哲さんのペシャワール会みたいに、政府の活動とは独立している（イ）の活動もあるね。

Bさん：私は、「5.ジェンダーの平等を実現しよう」を調べてみたよ。

Cさん：ジェンダーって何？

Bさん：ジェンダーとは、社会的・文化的な男女の役割の違いのことなんだって。

日本は、③国会議員の女性の割合が低い国みたいだよ。

Aさん：国会議員を選ぶ権利は、日本国民の満（ウ）歳以上の男女に与えられているのに、女性の国会議員の割合は低いんだね。

Cさん：女性の議員の割合が低いって、私が調べた「11.住み続けられるまちづくりを」にも影響がありそうなことだな。

Bさん：みんなから集めた④税金を、どんなふうに使えば良いかって、女性の意見も大切だよな。

Cさん：そうだね。日本では、まちづくりは都道府県や⑤市町村が中心になるね。

住民からの要望を受けて、都道府県や市町村がまちづくりの具体的な計画を立てて、国はそれを支援しているよ。

⑥東日本大震災なんかの災害の時には、多くの人がボランティアに参加したね。

Aさん：地域には外国人の方も多く住んでいるから、そういった人たちへの対応も必要だね。

Cさん：そうなんだ。言葉の問題もあるけど、宗教の問題もあるんだ。例えば、イスラム教徒の人は（エ）肉を食べないから、災害時の食べ物も考えないといけ

ないね。

Aさん：SDGsって、外国の問題って思っていたけど、日本にも多くの課題があるんだね。

問1 文章中の（ア）～（エ）に当てはまる語句・数字を答えなさい。

問2 下線部①について、SDGsの日本語訳を何というか答えなさい。

問3 下線部②について、国際連合についての説明として、間違っているものを1つ選び、記号で答えなさい。

ア. 国際連合は1945年に発足し、日本は発足した当初からの加盟国である。

イ. 国際連合の本部は、アメリカのニューヨークに置かれている。

ウ. ユニセフは国際連合の機関のひとつで、戦争や食料不足などにより厳しい生活をしている子どもたちを助ける目的で設立された。

エ. 核兵器禁止条約は、2017年に国際連合で採択された。

問4 下線部③について、下の表の（a）～（d）に当てはまる語句・数字の組み合わせとして正しいものを1つ選び、記号で答えなさい。

	衆議院	参議院
任期	（ a ）	（ b ）
解散	（ c ）	（ d ）

ア. a 4年 b 6年 c なし d あり      イ. a 6年 b 4年 c なし d あり

ウ. a 4年 b 6年 c あり d なし      エ. a 6年 b 4年 c あり d なし

問5 下線部④について、国の収入（2018年度）の約3分の1は借金によって補われています。この借金が増え続けていくと、どのような問題が起こるといわれていますか。「公債金」と「国債費」の2つの用語を使って簡単に説明しなさい。

問6 下線部⑤について、市町村への住民の参加に関する説明として、間違っているものを1つ選び、記号で答えなさい。

- ア. 市町村長や市町村議員の選挙に立候補できる年齢は、満25歳以上となっている。
- イ. 市町村は、それぞれの地域だけに適用される独自の条例をつくることができる。
- ウ. 情報公開制度によって住民は、市町村が持っている情報を公開するように請求することができる。
- エ. 市町村議会では重要なことが話し合われるため、原則として住民は議会を傍聴することができない。

問7 下線部⑥について、2011年に発生した東日本大震災の復興に対応するため、国が新たに設立した省庁を答えなさい。

令和4年度 中学校前期入学試験問題〔社会〕  
 解答欄

第1問題

問 1		問 2	問 3	問 4
問 5	問 6			

第2問題

問 1	問 2	問 3	問 4	問 5

第3問題

問 1	問 2	問 3													
30															

第4問題

問 1			
(1)	(2)	(3)	(4)
問 1		問 2	
(5)	(6)		
問 3			問 4
問 5	問 6	問 7	
問 8			
→	→	→	→

第5問題

問 1			
ア	イ	ウ	エ
問 2		問 3	問 4
問 5			
問 6	問 7		

受験 番号		名前		※ 得点		中 社
----------	--	----	--	---------	--	--------

※印欄には記入しないこと