

令和 5 年度

中学校 A 日程入学試験問題

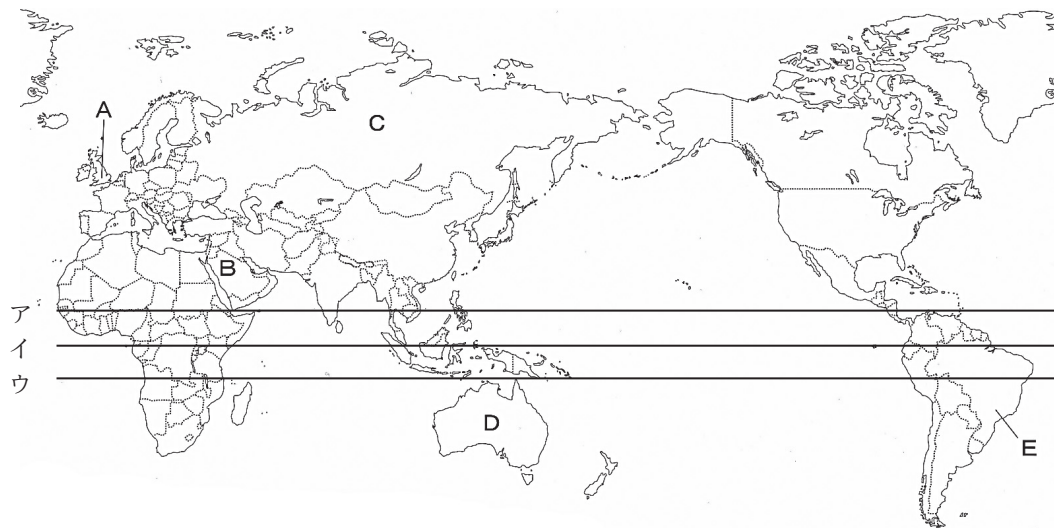
社 会

受験上の注意

◎ 時間……………40 分

◎ 解答はすべて、別紙解答欄らんに記入すること。

第1問題 世界の国々について、あとの問いに答えなさい。



問1 地図中のア～ウの線で、赤道にあてはまるものを1つ選び、記号で答えなさい。

問2 次の文章は地図中のA・C・D・Eの国についてそれぞれ説明したものです。あてはまるものをそれぞれ1つ選び、記号で答えなさい。

- ア. 最も面積の大きい国であるが、1991年にソ連の解体で現在の共和国のしくみに変わった。2022年にウクライナに軍事侵攻した。
- イ. 南半球にある国なので、日本とは季節が逆である。大陸全体が国で、国旗にはAの国旗が入っている。
- ウ. 連合王国であるが、2022年に女王が亡くなり国葬が行われた。2020年にはヨーロッパ連合（EU）から離脱した。
- エ. 流域面積が最も大きいアマゾン川がある。2016年には南アメリカ大陸で最初のオリンピック・パラリンピックが行われた。

問3 地図中のBの国について、国民の大部分が信仰している宗教名を1つ選び、記号で答えなさい。

- ア. キリスト教 イ. イスラム教 ウ. ヒンドゥー教 エ. 仏教

問4 次の表は、地図中のCの国と日本の貿易を表したものです。X・Yにあてはまる貿易品目をそれぞれ1つ選び、記号で答えなさい。

C国との貿易 (2020年)

C国への輸出	百万円	%	C国からの輸入	百万円	%
X	720 769	55.6	液化天然ガス	1 289 875	33.7
機械類	203 435	15.7	Y	1 027 736	26.8
うち建設・鉱山用機械	52 406	4.0	鉄鉱石	540 654	14.1
石油製品	96 431	7.4	銅鉱	209 034	5.5
タイヤ・チューブ	50 483	3.9	肉類	194 676	5.1
自動車部品	29 045	2.2	アルミニウム	63 555	1.7
鉄鋼	20 167	1.6	液化石油ガス	43 639	1.1
無機化合物	12 284	0.9	粗糖	35 429	0.9
科学光学機器	11 334	0.9	ウッドチップ	33 312	0.9
遊戯用具	9 133	0.7	チーズ	31 382	0.8
計	1 295 449	100.0	計	3 831 259	100.0

(日本国勢図会2022/23)

ア. 原油 イ. 石炭 ウ. 自動車 エ. 衣類 オ. 野菜

第2問題 日本の食料自給率の変化を示した表について、あとの問いに答えなさい。

品目	2000年	2005年	2010年	2015年	2020年 ^{※1}
米	95%	95%	97%	98%	97%
X	11%	14%	9%	15%	15%
いも類	83%	81%	76%	76%	73%
Y	5%	5%	6%	7%	6%
野菜	81%	79%	81%	80%	80%
果実	44%	41%	38%	41%	38%
肉類 ^{※2}	52%	54%	56%	54%	53%

※1 概算の数値 ※2 鯨肉を除く

(日本国勢図会2022/23)

問1 表中のX・Yにあてはまるものをそれぞれ1つ選び、記号で答えなさい。

ア. 大豆 イ. 卵類 ウ. 小麦 エ. 魚介類 オ. 牛乳・乳製品

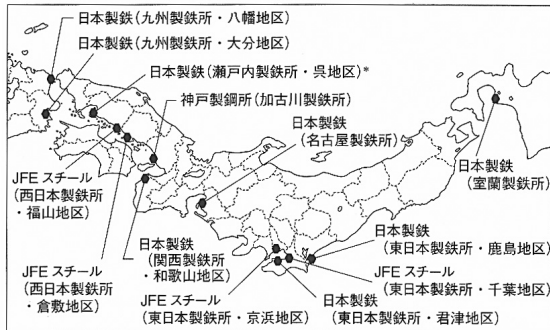
問2 表中の「野菜」・「肉類」について、これらの品目も海外からの輸入にたよっています。日本が最も輸入している国名をそれぞれ1つ選び、記号で答えなさい。

ア. アメリカ イ. カナダ ウ. イタリア エ. 韓国 オ. 中国

第3問題 日本の工業について、あとの問いに答えなさい。

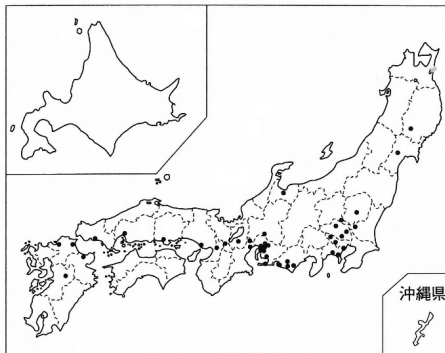
図A

高炉一貫製鉄所の所在地 (2021年7月1日現在)



図B

自動車工場の所在地



(日本国勢図会2022/23)

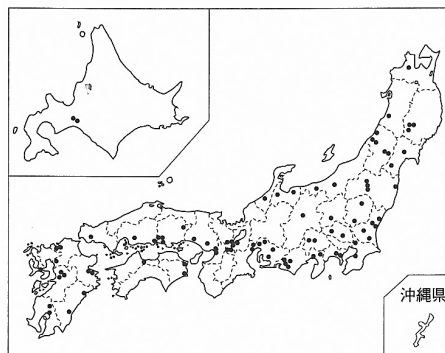
問1 上の図Aと図Bが関係するものとしてふさわしくない語句を1つ選び、記号で答えなさい。

- ア. コンビナート イ. 地産地消 ウ. 加工貿易 エ. 太平洋ベルト

問2 図Aの製鉄所の分布と、右の図Cの半導体工場の分布にはちがいがあります。この分布のちがいの理由について、40字以内で説明をしなさい。

図C

半導体工場の分布図 (2021年)



(日本国勢図会2022/23)

第4問題 Sくんたちは、歴史の授業をふり返り、「日本と外国との結びつき」を題材とするポスター発表をすることを計画しています。以下の【取材メモA】～【取材メモF】は、Sくんたちが調べ、まとめたものです。

<p>【取材メモA】</p> <p>日本に<u>鉄砲</u>が伝わった数年後、(①)は鹿児島に来て、西日本をまわりながら戦国大名や民衆にキリスト教の教えを広めた。</p>	<p>【取材メモB】</p> <p>天皇の政治を助けていた(②)は、進んだ制度や文化、学問を取り入れることを考え、小野妹子らを隋に送った。</p>	<p>【取材メモC】</p> <p>江戸幕府の3代将軍である(③)の時代、貿易の相手を、<u>オランダと中国に限り、長崎で貿易を行うこととした</u>。</p>
<p>【取材メモD】</p> <p>アメリカ合衆国の使者である(④)が4せきの軍艦を率いて浦賀に現れ、大統領の手紙を幕府に渡し<u>開国を要求した</u>。</p>	<p>【取材メモE】</p> <p>天下統一をなしとげた(⑤)は、海外にも目を向け、<u>中国(明)</u>を征服しようとして、2度にわたって朝鮮に大軍を送った。</p>	<p>【取材メモF】</p> <p>執権の(⑥)は元からやってきた使者の要求をしりぞけ、おもに九州の<u>武士たち</u>を集めて、元軍との戦いを進めた。</p>

問1 【取材メモA】～【取材メモF】中の空欄(①)～(⑥)にあてはまる人物名を答えなさい。

問2 【取材メモA】中の下線部「鉄砲」に関連して、この兵器を有効に使って勢力を広げた織田信長が行った政策としてふさわしくないものを1つ選び、記号で答えなさい。

- ア. キリスト教を保護し、城下町にキリスト教の学校を建てることを許可した。
- イ. 将軍の足利氏を京都から追放して、室町幕府をほろぼした。
- ウ. 城下町での自由な商売を認め、関所をなくし、商業や工業をさかんにした。
- エ. 刀狩令を出し、百姓たちから刀や鉄砲を取り上げ、反抗できないようにした。

問3 【取材メモB】中の下線部「天皇の政治を助けていた」に関連して、(②)の人物が定めた、役人の心構えを示すものを何というか。

問4 【取材メモC】中の下線部「オランダと中国に限り、長崎で貿易を行うこととした」とあるが、江戸幕府が貿易相手を下線部のように制限した理由は何か。当時の江戸幕府が取りしまっていたものと関連づけて、簡潔に説明しなさい。

問5 【取材メモC】の内容の時期に始まった、各地の大名が領地と江戸との間を行き来する制度を何というか。

問6 【取材メモD】中の下線部「開国を要求した」とあるが、要求の5年後に結ばれた、日本とアメリカが貿易を始めることとなった条約を何というか。

問7 【取材メモE】中の下線部「中国（明）」に関連して、室町時代には中国（明）との貿易や交流の影響を受けた文化が広がっていた。室町時代の文化の様子としてふさわしいものを1つ選び、記号で答えなさい。

- ア. 歌舞伎という演劇が人気を集め、浮世絵という多色刷りの版画が親しまれた。
- イ. 障子やふすまのある書院造の建築様式や、床の間をかざる生け花がさかんになった。
- ウ. 束帯とよばれる男性の服装や、十二単とよばれる女性の服装が生み出された。
- エ. 仏教の力をつかって社会の不安をはずめようと願い、国ごとに国分寺が建てられた。

問8 【取材メモF】中の下線部「武士たち」に関連して、当時の武士たちはひんぱんに土地をめぐる争いを起こし、裁判となっていた。こうした武士たちの裁判の基準となる法律が鎌倉幕府によってつくられたが、これを何というか。

問9 【取材メモA】～【取材メモF】を年代の古い順に並び替え、アルファベットで答えなさい。

第5問題 中学生のAさんは、インターネットで調べものをしていたら、核兵器禁止条約という条約があることを知りました。しかし、この核兵器禁止条約について分からないことがたくさんあったため、B先生に質問してみることにしました。下は、AさんとB先生との会話です。会話文を読んで、あとの問いに答えなさい。

Aさん：インターネットで調べものをしていたら、世界には核兵器禁止条約という条約があるのですね。

B先生：そうですよ。良く調べましたね。核兵器禁止条約は、2017年に（a）国際連合の総会で採択され2021年に有効な国際条約となりましたね。

Aさん：その核兵器禁止条約ですが、日本は入っていないのですか？

B先生：日本は、（b）核兵器禁止条約を結んでいませんね。

Aさん：日本には、（c）非核三原則というのがありますよね。なぜ、核兵器禁止条約を結ばないのですか？

B先生：核兵器禁止条約には（d）アメリカ合衆国や（e）中華人民共和国などの核兵器を持っている国は1か国も参加していないから、日本は核兵器を持っている国と核兵器を持っていない国との橋渡し役になるために、この条約を結ばないと日本政府は説明しているね。

Aさん：そうなんですね。ところで、非核三原則とは（f）日本国憲法の何条に書かれているのですか？

B先生：非核三原則は、憲法には書かれていませんね。非核三原則は、法律でもなく（g）国会決議というものになります。

Aさん：非核三原則は、国会決議というものなのですね。政治に自分たちの意見を反映させるためには、（h）選挙などで自分たちの意見をしっかりとあらわす必要がありますね。

問1 下線部（a）について、国際連合の本部が置かれている都市を答えなさい。

問2 下線部（a）について、国際連合には様々な機関がありますが、戦争や飢えなど厳しい地域に暮らす子どもたちを助ける活動をしている機関を答えなさい。

問3 下線部（b）について、日本で条約を結ぶ権限を持つ機関を1つ選び、記号で答えなさい。

ア. 国会 イ. 内閣 ウ. 裁判所 エ. 天皇

問4 下線部(c)について、非核三原則をすべて答えなさい。

問5 下線部(d)について、アメリカ合衆国についての文として、間違っているものを1つ選び、記号で答えなさい。

- ア. アメリカ合衆国は、フランスから独立した国でフランス語が多く話されている。
- イ. アメリカ合衆国の国旗の50個の星は、現在の州の数を表している。
- ウ. アメリカ合衆国には先住民のほかに、多くの国から移住してきた人びとが暮らすため、多文化社会の国といわれている。
- エ. アメリカ合衆国では、大型機械を使い大規模な農業を行っており、小麦や大豆などが多く輸出されている。

問6 下線部(e)について、中華人民共和国についての文として、間違っているものを1つ選び、記号で答えなさい。

- ア. 中華人民共和国の首都は、ペキンである。
- イ. 中華人民共和国には、50以上の民族が暮らしているが、その中でも漢族が人口の90%以上を占めている。
- ウ. 中華人民共和国では近年、少子高齢化問題が深刻となり、問題を解消するため一人っ子政策をおしすすめている。
- エ. 中華人民共和国では、旧暦の正月(1月末から2月中旬)に春節という行事があり、お祝いに爆竹を鳴らす風習がある。

問7 下線部(f)について、戦争をしないことやそのための戦力を持たないことなど記し、日本国憲法の平和主義を具体化している条文は、日本国憲法の第何条か答えなさい。

問8 下線部(g)について、日本の国会には、衆議院と参議院という2つの議院があります。このように議院が2つあることの利点と欠点をそれぞれ簡単に説明しなさい。

問9 下線部(h)について、下の役職のうち国民・住民の選挙によって選ばれないものを1つ選び、記号で答えなさい。

- ア. 参議院議員
- イ. 内閣総理大臣
- ウ. 県知事
- エ. 県議会議員

令和5年度 中学校A日程入学試験問題〔社会〕
 解答欄

第1問題

問 1	問 2				問 3	問 4	
	A	C	D	E		X	Y

第2問題

問 1		問 2	
X	Y	野菜	肉類

第3問題

問 1																													
問 2																													
														10															20
														30															40

第4問題

問 1																			
①					②					③					④				
問 1										問 2					問 3				
⑤					⑥														
問 4																			
問 5					問 6					問 7					問 8				
問 9																			
→					→					→					→				

第5問題

問 1					問 2					問 3																			
問 4															問 5					問 6					問 7				
核兵器を																													
問 8															問 9														
利点										欠点																			

受験 番号		名前		※ 得点		中 社
----------	--	----	--	---------	--	--------

※印欄には記入しないこと